

MY
Farm

KHỞI
ĐỘNG



TRÒ CHƠI:

**AI NHANH,
AI ĐÚNG**



Câu 1:

$$7 + 7 = ?$$

14

Câu 2:

$$9 + 4 = ?$$

13

Câu 3:

$$4 + 8 = ?$$

12

Bài 9

**BÀI TOÁN VỀ THÊM BỐT
MỘT SỐ ĐƠN VỊ**




YÊU CẦU CẦN ĐẠT


- Nhận biết được bài toán về thêm một số đơn vị. Biết giải và trình bày bài giải bài toán về thêm (có một bước tính)
- Vận dụng giải được các bài toán về thêm một số đơn vị (liên quan đến ý nghĩa thực tiễn của phép tính).

MY
Farm

KHÁM
PHÁ







Khám phá

Giải bài toán về thêm một số đơn vị

Bài toán: Trên khay có 8 quả trứng, Mai cho thêm 2 quả trứng. Hỏi có tất cả bao nhiêu quả trứng?



Tóm tắt:

Có : 8 quả trứng

Thêm : 2 quả trứng

Có tất cả: ... quả trứng?



Bài giải

Số quả trứng có tất cả là:

$$8 + 2 = 10 \text{ (quả)}$$

Đáp số: 10 quả trứng.



Bài toán: Trên khay có 8 quả trứng, Mai cho thêm 2 quả trứng.
Hỏi có tất cả bao nhiêu quả trứng?

- Câu lời giải.
- Phép tính giải.
- Đáp số

Khi viết bài giải của bài toán có lời văn, bạn cần chú ý điều gì?



MY
Farm

HOẠT
ĐỘNG



1

Lọ hoa có 9 bông hoa, Việt cắm thêm 6 bông hoa.
Hỏi lọ hoa có tất cả bao nhiêu bông hoa?



1

Lọ hoa có 9 bông hoa, Việt cắm thêm 6 bông hoa.
Hỏi lọ hoa có tất cả bao nhiêu bông hoa?



Tóm tắt

Có : 9 bông hoa

Thêm : 6 bông hoa

Có tất cả: ... bông hoa?

Bài giải:

Số bông hoa có tất cả là:

$$9 + 6 = 15 \text{ (bông)}$$


Đáp số: 15 bông hoa.



hoạt động

2

Có 8 bạn đang chơi kéo co, có thêm 4 bạn chạy đến cùng chơi.
Hỏi lúc đó có tất cả bao nhiêu bạn chơi kéo co?



2 Có 8 bạn đang chơi kéo co, có thêm 4 bạn chạy đến cùng chơi.
Hỏi lúc đó có tất cả bao nhiêu bạn chơi kéo co?

Tóm tắt

Có : bạn

Thêm : bạn

Có tất cả: ... bạn?

Bài giải:

Số bạn chơi kéo co có tất cả là:

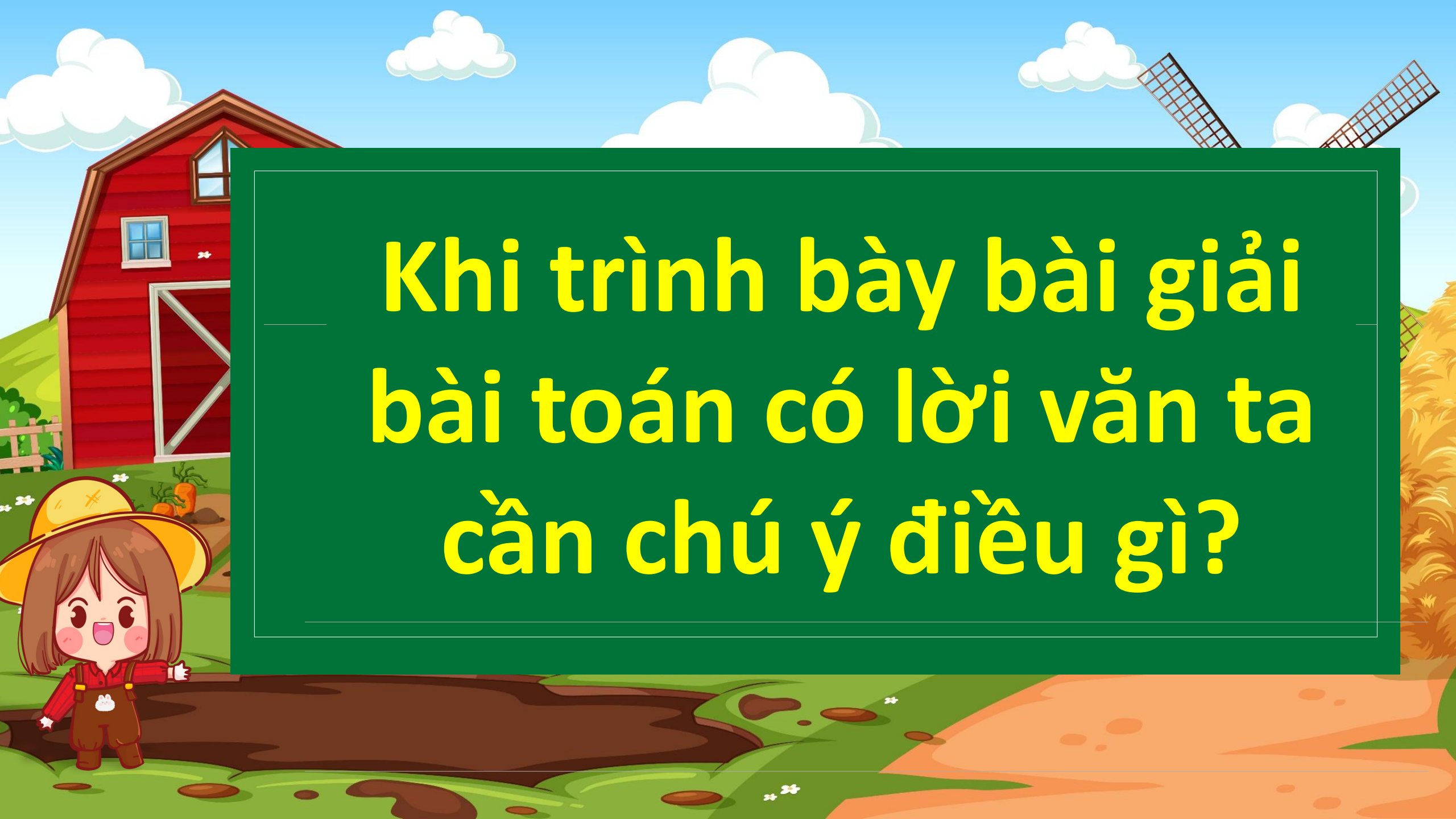
$$\text{8} + \text{4} = \text{12} \text{ (bạn)}$$

Đáp số: bạn.

MY
Farm

VẬN
DỤNG





**Khi trình bày bài giải
bài toán có lời văn ta
cần chú ý điều gì?**



TẠM BIỆT VÀ

HẸN GẶP LẠI

